

世 界 史

I (配点 36)

次の文を読み、(1)～(9)の問いに答えよ。

[解答番号 ～]

世界最古の文明発祥地の1つであるオリエントでは、まずナイル川流域のエジプトと、ティグリス川・ユーフラテス川流域のメソポタミアに文明が形成された。

エジプトは、ナイル川がもたらす豊かな水と、その氾濫が生んだ肥沃な土地が農業を発達させ、また治水技術や、氾濫予測の必要から天文学も発達した。まさに^{ア)}「エジプトはナイルのたまもの」であったといえよう。エジプトでは、前3000年頃に王(ファラオ)中心の統一国家が形成され、以後、一部の例外を除いてエジプト人による王朝が続いた。この間、とりわけ栄えた時代は、^{イ)}古王国・中王国・新王国の名でよばれている。

一方、周囲が開放的な地形のメソポタミアでは、古来さまざまな民族が侵入・建国を繰り返し、^{ウ)}シュメール人の都市国家やバビロン第1王朝など、諸民族の国家が興亡した。

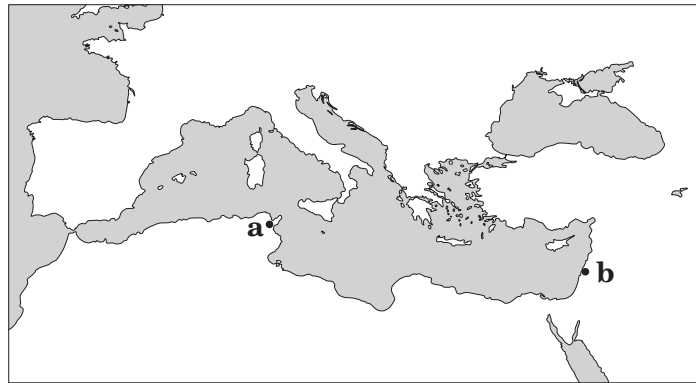
前2000年紀半ば頃から、インド=ヨーロッパ語系の諸民族がオリエント各地に侵入・建国したが、中でも^{エ)}ヒッタイト人は、アナトリア(小アジア)に一時強大な国家を建設した。この国が滅亡した後、地中海東岸ではセム語系の民族の活動が活発となり、^{オ)}フェニキア人は地中海交易、アラム人は内陸交易に活躍した。

こうした民族移動やそれにとまなう戦争、また商業活動は、諸地域の交流やつながりをもたらし、やがて全オリエントを統一する国家が出現した。まず前7世紀に^{カ)}アッシリア王国がメソポタミアとエジプトを中心とする統一国家を樹立し、王を中心とする統治機構を整えた。アッシリア王国の滅亡後、オリエントでは^{キ)}エジプト・リディア・新バビロニア・メディアの4王国が分立する情勢が続いたが、前6世紀半ば、イラン高原から登場したペルシア人によるアケメネス(アカイメネス)朝が、これら4王国を統一する大帝国をつくりあげた。アケメネス朝は、広大な領土を支配するための^{ク)}さまざまな中央集権的システムを整備したが、^{ケ)}前5世紀以後はギリシア世界への対策に明けくれた。

(1) 下線部^{ア)}に関連して、「エジプトはナイルのたまもの」の言葉を残した古代ギリシアの歴史家として最も適当なものを、次の①～④の中から1つ選べ。

- | | |
|-----------|---------|
| ① トウキディデス | ② リウイウス |
| ③ ヘロドトス | ④ ポリビオス |

- (5) 下線部**オ**)に関連して、フェニキア人が地中海岸に建設した都市と、その都市の名称の組み合わせとして最も適当なものを、下の①～④の中から1つ選べ。 5



- | | |
|------------|-------------|
| ① a - カルタゴ | ② a - ダマスクス |
| ③ b - カルタゴ | ④ b - ダマスクス |

- (6) 下線部**カ**)に関連して、次の文中の空欄 ウ ・ エ に当てはまる語の組み合わせとして最も適当なものを、下の①～④の中から1つ選べ。 6

アッシリア王 ウ は、首都 エ に大図書館をつくり、情報収集を積極的に行ったことで知られる。

- | | |
|---------------|--------|
| ① ウーアッシュルバニパル | エーニネヴェ |
| ② ウーアッシュルバニパル | エースサ |
| ③ ウーサルゴン (1世) | エーニネヴェ |
| ④ ウーサルゴン (1世) | エースサ |

- (7) 下線部**キ**)に関連して、4王国で行われた政策に関する記述として最も適当なものを、次の①～④の中から1つ選べ。 7

- ① エジプトでは、ダヴィデ王の統治下に最盛期をむかえた。
- ② リディアでは、ハンムラビ法典が編纂された。
- ③ 新バビロニアは、バビロン捕囚を行った。
- ④ メディアでは、最古の金属貨幣が製作された。

(8) 下線部ク)に関連して、アケメネス朝の統治体制に関する記述として最も適切なものを、次の①～④の中から1つ選べ。 8

- ① 新首都クテシフォンを造営した。
- ② 異民族には、強制移住など過酷な統治を行った。
- ③ 各州の長官に伯をおき、統治にあたらせた。
- ④ 「王の目」「王の耳」が、州の長官を監察した。

(9) 下線部ケ)に関連して、アケメネス朝がギリシア世界に関わった次のa～cの出来事を年代の古い順に並べた場合、最も適切なものを、下の①～⑥の中から1つ選べ。 9

- a マケドニアのアレクサンドロス大王と戦った。
- b ペロポネソス戦争では、スパルタを支援した。
- c サラミスの海戦で、ギリシア艦隊に敗れた。

- ① a → b → c ② a → c → b ③ b → a → c
- ④ b → c → a ⑤ c → a → b ⑥ c → b → a

- (3) 下線部ウ)に関連して、キリスト教の変遷に関する次の文中の空欄 **ア** ・ **イ** に当てはまる語の組み合わせとして最も適当なものを、下の①～④の中から1つ選べ。

12

キリスト教は、4世紀初めのディオクレティアヌス帝による **ア** を経て、313年、コンスタンティヌス帝によって **イ** された。

- ① **ア**－大迫害 **イ**－公認 ② **ア**－大迫害 **イ**－国教化
③ **ア**－公認 **イ**－大迫害 ④ **ア**－公認 **イ**－国教化

- (4) 下線部エ)に関連して、聖像禁止令を發布したビザンツ皇帝として最も適当なものを、次の①～④の中から1つ選べ。 **13**

- ① ユスティニアヌス1世(大帝) ② ヘラクレイオス1世
③ テオドシウス帝 ④ レオン3世

- (B) 西ヨーロッパで教皇の力が強まると、世俗権力である **オ)** 神聖ローマ皇帝との対立があらわとなった。11世紀以降、それは **カ)** 叙任権をめぐる両者の争いとして顕在化し、12～13世紀に教皇権は絶頂期をむかえた。しかし、その教皇権は、並行して行われていた **キ)** 十字軍の挫折とともに下降に転じた。

すでに十字軍前後から教会の腐敗や墮落が批判され、修道院などを中心とした教会改革運動が展開されたが、**ク)** 教会の混乱や社会不安が深刻化した14世紀には、後の宗教改革につながる動きもあらわれた。聖書の尊重をとらえた **ケ)** ウィクリフやフスの行動は、この時点で実を結ぶことはなかったが、1世紀後に始まる宗教改革の本格的展開を準備したといえよう。

- (5) 下線部オ)に関連して、神聖ローマ帝国に関する次の文中の空欄 **ウ** ・ **エ** に当てはまる語の組み合わせとして最も適当なものを、下の①～④の中から1つ選べ。

14

神聖ローマ帝国は、962年の **ウ** の戴冠から、1806年の **エ** によるライン同盟の結成まで存続したとされる。

- ① **ウ**－アウグストゥス **エ**－ロベスピエール
② **ウ**－アウグストゥス **エ**－ナポレオン
③ **ウ**－オットー1世 **エ**－ロベスピエール
④ **ウ**－オットー1世 **エ**－ナポレオン

(6) 下線部**カ**)に関連して、教皇と世俗権力の対立に関する次のa～cの出来事を年代の古い順に並べた場合、最も適当なものを、下の①～⑥の中から1つ選べ。 15

- a ヴォルムス協約が結ばれた。
- b カノッサの屈辱が起こった。
- c インノケンティウス3世がジョン王を破門した。

- ① a→b→c ② a→c→b ③ b→a→c
- ④ b→c→a ⑤ c→a→b ⑥ c→b→a

(7) 下線部**キ**)に関連して、十字軍に関する記述として最も適当なものを、次の①～④の中から1つ選べ。 16

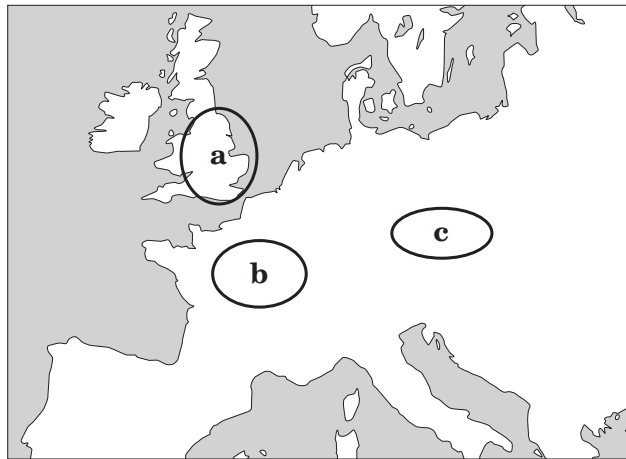
- ① ウルバヌス2世は、コンスタンツ公会議で十字軍を提唱した。
- ② 第1回十字軍は、ラテン帝国を建設した。
- ③ 第3回十字軍は、アイユーブ朝のサラディンと戦った。
- ④ 十字軍の結果、東方貿易などの遠隔地貿易は衰退した。

(8) 下線部**ク**)に関連して、14世紀のヨーロッパで起こった出来事に関する記述として**誤っているもの**を、次の①～④の中から1つ選べ。 17

- ① 教会大分裂(大シスマ)が起こった。
- ② 黒死病(ペスト)が大流行した。
- ③ フランスで、ジャックリーの乱が起こった。
- ④ アルビジョワ派が勢力を拡大した。

(9) 下線部ケ)に関連して、ウィクリフとフスに関する次の文中の空欄 **オ** ・ **カ** に当てはまる地図中の地域の組み合わせとして最も適当なものを、下の①～④の中から1つ選べ。 **18**

ウィクリフは、 **オ** のオクスフォード大学教授であった神学者、フスは、 **カ** のプラハ大学総長であった神学者である。



- | | | | | | |
|---|-------|-------|---|-------|-------|
| ① | オ - a | カ - b | ② | オ - a | カ - c |
| ③ | オ - b | カ - c | ④ | オ - c | カ - a |

Ⅲ (配点 48)

次の文を読み、(1)～(7)の問いに答えよ。

[解答番号 19 ～ 30]

19世紀後半になると、欧米の主要国では資本主義が発達し、原料供給地・製品輸出先確保のため、海外進出を志向するようになった。各国は競って植民地獲得に力を入れて世界分割が進められ、その結果、世界各地で領土争いの衝突が多発した。一方、国内では労働者の力が増大し、
ア) 労働運動や労働者政党の形成がみられた。

植民地分割と領土争いが最も熾烈な形で行われたのは、アフリカ大陸であった。ベルギー国王がアフリカ中部の 19 の領有を宣言したことがきっかけで、ドイツ帝国宰相 20 がベルリン会議(1884～85年)を開いたが、この会議で植民地化の原則が定められた結果、列国はアフリカ大陸に殺到し、アフリカ大陸は、イ) 2つの独立国を残して分割された。ウ) 分割の主役となったのはイギリス・フランスで、両国は1898年にスーダンで 21 事件を起こし、一触即発の危機をむかえたこともあった。イギリス・フランスは、東アジアや東南アジアでも勢力拡大に熱心であったが、当時、エ) 両国内では政権の基盤をゆるがす動きも生じており、海外進出は、そうした国内問題から国民の目をそらすためのものであったともいえよう。

ドイツは、19世紀末から「世界政策」を掲げて海外進出を積極化させ、 22 政策とよばれる勢力拡大策を西アジアで行った。一方、アフリカ大陸で、オ) 1905年と1911年の2回にわたって起こした事件は、フランスとの対立のみならず、世界の緊張を高めることとなった。

アメリカ合衆国は、1890年のフロンティア消滅を機に海外進出を始め、19世紀末から20世紀初めにかけてはカリブ海政策に力を入れた。また、1898年にスペインとの戦争に勝利して 23 やグアムを獲得するなど、太平洋地域への進出も本格化させた。当時中国は清の統治下にあったが、19世紀には、カ) 列強による分割の危機にさらされた。分割競争に出遅れたアメリカ合衆国は、国務長官 24 の名で門戸開放宣言を発し、中国進出への参加を表明した。

(1) 19 ～ 24 に当てはまる適切な語句を、解答群1からそれぞれ1つ選べ。

解答群1

① ジョン=ヘイ	② ピット	③ ジブチ	④ 3 B
⑤ フィリピン	⑥ チュニジア	⑦ 台湾	⑧ ファショダ
⑨ 3 C	⑩ コンゴ	⑪ アドワ	⑫ ビスマルク

(2) 下線部ア)に関連して、19世紀後半～20世紀前半の労働運動や労働者政党に関する記述として最も適当なものを、次の①～④の中から1つ選べ。 25

- ① 国際的な労働者組織として、コミンフォルムが結成された。
- ② イギリスでは、チャーチルが初の労働党内閣を組織した。
- ③ ドイツでは、社会革命党が結成され、大きく成長した。
- ④ アメリカ合衆国では、アメリカ労働総同盟（AFL）が結成された。

(3) 下線部イ)に関連して、第一次世界大戦直前のアフリカの2つの独立国の組み合わせとして最も適当なものを、次の①～④の中から1つ選べ。 26

- ① リベリアとエチオピア
- ② ナイジェリアとエジプト
- ③ アンゴラとモザンビーク
- ④ リビアとソマリランド

(4) 下線部ウ)に関連して、イギリスとフランスのアフリカ政策に関する記述として最も適当なものを、次の①～④の中から1つ選べ。 27

- ① イギリスは、アフリカ横断政策を進めた。
- ② イギリスは、ブール人と南アフリカ戦争を戦った。
- ③ フランスは、ルイ14世の時代にアルジェリア出兵を行った。
- ④ フランスは、アフリカとインドの植民地を結びつける政策を推進した。

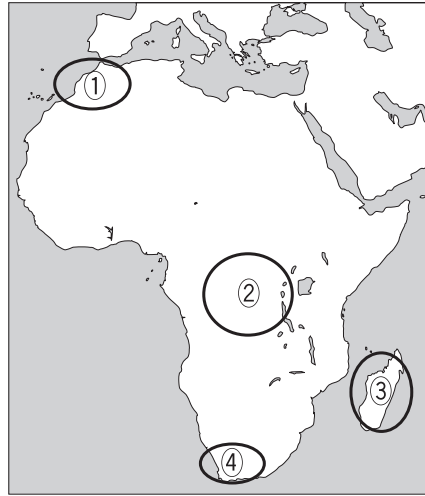
(5) 下線部エ)に関連して、19世紀末のイギリスとフランスで起こった出来事に関する a・b の記述の正誤の組み合わせとして最も適当なものを、下の①～④の中から1つ選べ。

28

- a イギリスでは、普通選挙を求めるチャーティスト運動が高揚していた。
- b フランスでは、ドレフュス事件で世論が二分されていた。

- ① a - 正 b - 正
- ② a - 正 b - 誤
- ③ a - 誤 b - 正
- ④ a - 誤 b - 誤

- (6) 下線部**オ**に関して、この事件が起こった地域として最も適当なものを、次の地図中の①～④の中から1つ選べ。 29



- (7) 下線部**カ**に関して、列強の中国分割に関する次のa～cの出来事を年代の古い順に並べた場合、最も適当なものを、下の①～⑥の中から1つ選べ。 30

- a 日本が澎湖諸島を獲得した。
- b ロシアが沿海州を獲得した。
- c イギリスが威海衛を租借した。

- ① a → b → c ② a → c → b ③ b → a → c
④ b → c → a ⑤ c → a → b ⑥ c → b → a

IV (配点 30)

次の(1)～(10)の問いに答えよ。

[解答番号 **31** ～ **40**]

(1) ヘレニズム時代のアレクサンドリアでは、大灯台や図書館などの建造物が造営され、人々を驚嘆させていたという。この図書館は王立研究所の付属施設で、当時の学者たちが、この研究所を舞台に活躍した。この研究所の名称と、そこで活動した学者の名の組み合わせとして最も適当なものを、次の①～④の中から1つ選べ。 **31**

- ① マドラサーエラトステネス ② マドラサータレス
③ ムセイオンエラトステネス ④ ムセイオンタレス

(2) ローマ人は、土木・建築技術をはじめとする実用的文化の面で、そのすぐれた才能を発揮した。彼らが築き上げた建造物の数々は、現在もヨーロッパ各地でみることができる。ローマ時代の建造物に関する記述 a・b の正誤の組み合わせとして最も適当なものを、下の①～④の中から1つ選べ。 **32**

- a コロッセウムは経済の中心で、朝夕の市が開かれた。
b 水道橋は、都市に水を供給するためにつくられた。

- ① a - 正 b - 正 ② a - 正 b - 誤
③ a - 誤 b - 正 ④ a - 誤 b - 誤

- (3) いわゆる万里の長城は、秦の始皇帝が北方の匈奴に対する備えとして造営させたものとして知られる。しかし、現在我々が目にする大規模な長城は、明代に修築されたもので、秦代の長城よりかなり南に位置する。明代に長城の北方で中国を脅かした勢力の地域と呼称との組み合わせとして最も適当なものを、下の①～④の中から1つ選べ。 33



- ① a - オイラト b - 韃靼 (タタール)
 ② a - オイラト b - 突厥
 ③ a - 韃靼 (タタール) b - オイラト
 ④ a - 韃靼 (タタール) b - 突厥

- (4) 中世ヨーロッパの代表的建造物は、キリスト教の教会建築である。それは時代や地域に応じて、さまざまな姿で造営された。ヨーロッパの教会建築に関する記述として誤っているものを、次の①～④の中から1つ選べ。 34

- ① ハギア=ソフィア聖堂は、ビザンツ様式の代表的建築である。
 ② ロマネスク様式の教会建築には、ロマン主義芸術の技法が多く用いられた。
 ③ ゴシック様式の教会は、高い尖塔やステンドグラスを特徴とする。
 ④ サン=ピエトロ大聖堂は、ミケランジェロらも改築にかかわった。

- (5) イスラム教の礼拝堂は、アラビア語でモスク、英語ではモスクとよばれる。日本国内でもイスラム教徒の来訪数増加を背景に、多くのモスクが建設されている。モスクに関する記述として最も適当なものを、次の①～④のうちから1つ選べ。 35

- ① 礼拝堂の正面には、アッラーや預言者ムハンマドの像がほぼ必ずおかれている。
 ② イスラム教第1の聖地であるイェルサレムに向かって礼拝するため、その方角を示す印がある。
 ③ モスクに付随して、ジググラトとよばれる尖塔が建てられることが多い。
 ④ 装飾に使用される、植物や文字などを図案化した文様は、アラベスクとよばれる。

(6) 古今東西、王や皇帝など多くの権力者は、自らのために宮殿を造営するが、それらは豪壮な宮殿から離宮程度のものまで、規模はさまざまである。世界の著名な宮殿に関する記述として最も適当なものを、次の①～④の中から1つ選べ。 36

- ① ヴェルサイユ宮殿は、ルイ14世によって造営された。
- ② バロック様式のサンサーシ宮殿は、プロイセンのフリードリヒ2世によって造営された。
- ③ トプカプ宮殿は、タンジマートを開始したメフメト2世によって造営された。
- ④ 紫禁城は明・清の宮城で、清の最後の皇帝である光緒帝まで使用された。

(7) インドのタージ=マハルは、ムガル帝国のシャー=ジャハーンが亡き愛妃のために建てたものである。タージ=マハルが建てられた時期として最も適当なものを、次の年表中の①～④のうちから1つ選べ。 37

①
アクバルが、首都をアグラに定める
②
アウラングゼーブが、領土を最大にする
③
プラッシーの戦いで、イギリスが勝利する
④

(8) アメリカ合衆国の大統領官邸に関する次の文中の空欄 ア ・ イ に当てはまる語の組み合わせとして最も適当なものを、下の①～④の中から1つ選べ。 38

アメリカ合衆国の大統領官邸は、初代大統領 ア の時代に建設が開始され、第2代大統領ジョン=アダムズが最初に使用した。ナポレオン戦争中の海上封鎖に端を発した1812～14年の イ 戦争の際、敵軍に焼き討ちされた。戦後に再建され、外壁が白く塗装されたことから、大統領官邸は「ホワイトハウス」の愛称でよばれるようになった。

- ① ア－モンロー イ－南北
- ② ア－モンロー イ－アメリカ=イギリス
- ③ ア－ワシントン イ－南北
- ④ ア－ワシントン イ－アメリカ=イギリス

